



江別まち検定試験 第1回 上級編

問題と解答

(制限時間 60分)

平成23年10月29日

解答例の①～④の内 正解を③等、塗りつぶし数字で表示します

受験番号	
氏名	

主催

江別市

NPO 法人えべつ協働ねっとわーく

この事業は、江別市より NPO 法人えべつ協働ねっとわーくが委託を受けて実施しています。

次の文章の（ ）に入る解答を下記の問1～問5の選択肢からそれぞれ選んで下さい

明治11年、江別太（問1）に江別最初の屯田兵が岩手県から入地しました。篠津太は野生の（問2）が豊富な地で、屯田兵授産のために養蚕室が建てられ、琴似・山鼻両屯田から出張して養蚕が試みられていました。野幌兵村は225戸の入地で、江別兵村と6丁目通を境にして10丁目通にかけて（問3）兵屋が配置されました。野幌屯田の人々は、（問4）地方出身者がほとんどでした。後に4番通北側の現元野幌や大麻方面に追給地が与えられました。兵村では、麦・豆類、馬鈴薯などの他に養蚕と麻の栽培が勧められ、野幌駅の鉄道沿線一帯に桑園、大麻方面には麻畑が広がっていました。大麻の地名は、当時札幌寄りを「（問5）」、野幌寄りを「麻畑」と呼んでいたのもので、その頭文字を組み合わせると「大麻」と名付けたと言われています。

- 問1. ①現在の野幌町辺り ②現在の緑町・王子辺り
 ③現在の江別駅辺り ④現在の大麻駅辺り
- 問2. ①とうもろこし ②麻 ③桑 ④綿
- 問3. ①和式 ②洋式 ③ロシア式 ④アメリカ式
- 問4. ①九州・四国 ②関西 ③信州 ④関東
- 問5. ①大麻 ②大曲 ③大畑 ④大国

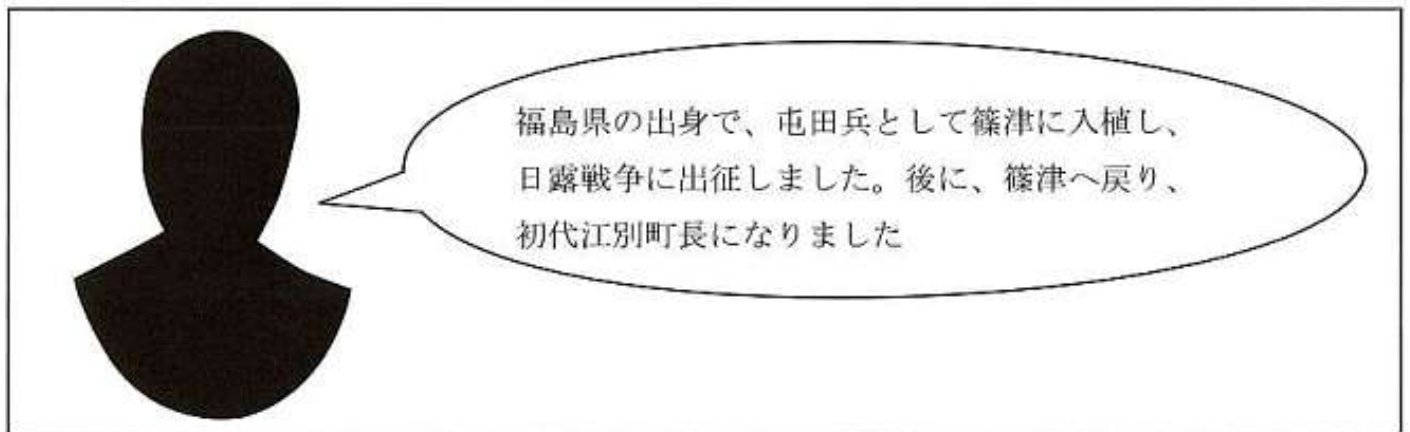
問 6. 大麻3遺跡で見つかった2体の土偶。市の有形文化財として登録され、2009年には海外でも展示されましたが、それはどこだったでしょう

- ① イギリス大英博物館 ② チェコマリオネット博物館
③ パリ工芸博物館 ④ ドイツ博物館

問 7. 次の組み合わせのうち、間違っているものを1つ選んでください

- ① 江別実科高等女学校—道立江別高等学校 ② 札幌商科大学—札幌学院大学
③ 野幌機農高等学校—道立野幌高等学校 ④ 北海道女子短期大学—北翔大学

問 8. 次の人物は誰かあてて下さい



- ①  ②  ③  ④ 

問 9. 次のうち、一番古い出来事はどれでしょう

- ① 江別市街地大火 ② 江別市旗規定 ③ 野幌公民館オープン ④ 道立図書館開館

問 10. 次のうち、夕張鉄道線の駅で本当にあったものはどれでしょう

- ① 空江別 ② 下ノ月 ③ 北海重機前 ④ 仰徳

次の文章の（ ）に入る解答を下記の間 11～間 15 の選択肢からそれぞれ選んで下さい

明治初期、野幌の森は（問 11）と呼ばれていました。この頃、丘陵は（問 12）主体の森だったようです。当時の（問 11）は、現在の野幌森林公園の（問 13）近くの大きさがあり、今の大麻・野幌の市街地までを含んでいましたが、時代と共に農地や集落などで変わっていきました。

明治 32 年、野幌の森は町村への分割払い下げの決定がなされましたが、この反対運動に尽力したのは北越殖民社の（問 14）でした。この反対運動の成果もあり、明治 41 年、（問 15）が設置され、野幌の森は、本州や外国からの移入樹種が盛んに試験植栽されました。

問 11. ①野津幌官林 ②野幌森林官 ③御陵屯田兵林 ④防風林

問 12. ①針葉樹 ②広葉樹 ③熱帯樹 ④落葉樹

問 13. ①10 倍 ②5 倍 ③3 倍 ④2 倍

問 14. ①久保兵太郎 ②町村敬貴 ③武田重兵衛 ④関矢孫左衛門

問 15. ①土壌開発研究所 ②種苗試験場 ③林業試験所 ④野生動物保護センター

問 16. 江別の地形の特徴として、間違っているものを選んでください

- ①全体的に平坦 ②大部分が低地帯 **③** 沢がない ④野幌丘陵がある

問 17. 石狩川の水源地はどこでしょう

- ①夕張岳 **②** 石狩岳 ③天塩岳 ④ニペソツ山

問 18. 次のうち、市内で一番大きな地目別土地面積は、どれでしょう

- ①** 畑 ②田 ③住宅 ④牧場

問 19. 野幌原始林（現野幌森林公園）はある特別天然記念物の指定を受けていましたが、昭和 30 年代に解除されています。指定を受けたのは、主に何だったでしょう

- ①エゾイタヤ林 ②シナノキ林 ③キタコブシ林 **④** トドマツ林

問 20. 江別神社付近には、明治時代から水源として活躍していた湧き水の池がありました。何と呼ばれていたでしょう

- ①桜沢池 **②** 和光の池 ③馬蹄の池 ④鎮守の池

次の文章の（ ）に入る解答を下記の間 21～間 25 の選択肢からそれぞれ選んで下さい

江別市のレンガの歴史は、明治 24 年に製造が始まって以来、110 年以上になります。初期は人力で採掘し、昭和 40 年代頃から（問 21）などを使用しています。はじめは、「登り窯」と呼ばれる、地形を利用して（問 22）などに窯を並べ、上に向かって焼き上げていく焼成方法でした。大正 4 年頃から、輪環窯に変わり、昭和 36 年頃から「（問 23）」に変わり、現在に至ります。（問 23）とは、大量のレンガや陶磁器を予熱から冷却まで（問 24）焼く窯のことです。江別で現存するレンガ工場のうち、最も古い歴史を持つのは（問 25）で、創業 80 年を越します。

問 21. ①人力車 ②馬車 **③ブルドーザー** ④宇宙開発用機材

問 22. ①平地 **②傾斜地** ③川辺 ④道路

問 23. ①ホフマン窯 ②蛇窯 ③野焼き **④トンネル・キルン**

問 24. **①**台車で移動させ ②窯の温度を手動で切り替えて
 ③野焼きで ④硝子優先で

問 25. ①昭和窯業（株） ②米沢煉瓦（株）
③北海煉瓦（株） ④北海道農材工業（株）

問 26. 次の中で、市内で一番収穫量が多い畑作物はどれでしょう

- ①メロン **②たまねぎ** ③ねぎ ④なす

問 27. 明治の開拓当初、米作は屯田兵村で禁止されていましたが、その理由は何だったでしょう

- ①寒冷地不向き** ②酒作りを禁止させるため
③本州まで運ぶ交通ルートがないから ④労働力不足

問 28. 江別市の家畜で一番頭数の多いものはどれでしょう

- ①豚 ②馬 ③肉用牛 **④乳用牛**

問 29. えべつやきもの市は、何をきっかけに開催されるようになったでしょう

- ①江別れんが 100 周年記念** ②江別市役所 100 周年記念
③江別れんが北海道遺産選定記念 ④小森忍生誕 100 周年

問 30. 石川県から野幌に屯田兵として入地し、発展した岩田醸造（株）。明治時代のお店の名前はどれでしょう

- ①丸の岩田商店** ②野幌岩田味噌 ③岩田味噌商店 ④星印岩田味噌

次の文章の（ ）に入る解答を下記の問 31～問 35 の選択肢からそれぞれ選んで下さい

江別駅は、1822 年（明治 15 年）11 月、木造平屋 22 坪の大きさに開かれました。通っていた鉄道は、幌加内炭鉱に行く調査団から鉄道を作る要請のため出来た石炭山の道です。機関車は「弁慶号」、「義経号」「(問 31) 号」などが使われていました。弁慶号はアメリカ型の機関車で、前方に「カウキャッチャ」という(問 32) を蹴散らすものとされる用具が取り付けられ、石炭を積んだ貨物で引いていました。当時の機関車は、今より速度が遅く、記録では江別―手宮間（約 90 キロ）で約(問 33) 時間もかかっていた頃があったそうです。

江別の鉄道橋は明治 24 年に木橋から永久橋（耐用年限が恒久的な橋）になりました。江別川の木橋が(問 34) のたびにグラグラして危険なので、橋をつくることになり、その為に江別太に(問 35) ができたともいわれています。

問 31. ①頼朝 ②政子 **③**しずか ④牛若丸

問 32. **①**牛や馬 ②木々 ③石炭 ④泥

問 33. ①12 ②10 ③5 **④**3

問 34. ①つり橋撤収 **②**水害 ③渡船 ④絵画展示

問 35. ①渡船場 **③**幌内鉄道本部 ③レンガ工場 ④警察

問 36. 江別発祥のスポーツは次のうち、どれでしょう

- ①ゲートボール **②** グリーンボール ③ボウリング ④ラート

問 37. 江別市で行っている、2歳未満の乳幼児がいる世帯などを対象とした支援はどれでしょう

- ①離乳食の無料配布 ②手作り木製椅子配布
③産後体操をすすめる家庭訪問 **④** 指定ゴミ袋無償交付

問 38. 次の一文は、どの条例に記されているでしょう

『ここにわたしたちは、江別市の市民自治の基本理念と基本原則を掲げ、市民及び市それぞれの役割と責務を明らかにするとともに、・・・(中略) かけがえのない愛する郷土、個性あふれるまちを創るため、江別市の最高規範として、この条例を制定します。』

- ①江別市民憲章 **②** 江別市自治基本条例
③緑の計画理念 ④男女共同参画基本理念

問 39. 江別市第5次総合計画は、何年に終了するでしょう

- ①** 2013年(平成25) ②2015年(平成27)
③2020年(平成32) ④2030年(平成42)

問 40. 次の一文は、市民憲章です。かっこに当てはまる言葉の組み合わせは、どれが正しいでしょう

『私たちは、屯田兵によってひらかれた江別の市民です。

ひろびろと広がる (A) ゆうゆうと流れる石狩川

緑深い野幌の原始林 今に残る (B) のあしあと』

- ①A 石狩平野－B 屯田兵 ②A 森林公園－B 開拓
③ A 石狩平野－B 開拓 ④A 開拓地－B 屯田兵

次の文章の（ ）に入る解答を下記の間41～間45の選択肢からそれぞれ選んで下さい

江別駅を降り、真向いにある公園は江別駅前公園、通称は三角公園です。

(問41) というモニュメントがあり、流れる滝は3メートルもあります。

流水口は、ユニークな土器の形。古木のプラタナスも良いシンボルになっています。

江別駅を背にして、江別駅前公園を(問42)、右折してコミュニティセンター前の

通りに入ると、ここは、約30メートルごとに(問43)させた構造になっており、

通過車両がスピードを出しすぎないように工夫されています。歩道はレンガで舗装され、

中にはヤツメウナギ漁など江別名物をデザインした(問44)枚のタイルも

埋め込まれています。電線・電話線は全て地下に埋設する工夫が凝らされています。

この通りとコミュニティセンターは、7月の(問45)を中心に、市民の楽しみを彩る道となっています。

問41. ①古城レンガの滝 ②土器のまち江別 **③**ふれあいの滝 ④江別の滝

問42. **①**左手に **②**右手に
③江別駅側に戻り ④水道庁舎側に向かって

問43. ①盛り上げ **②**屈曲 ③目印看板をたて ④公共施設を建て

問44. ①1 ②3 ③5 **④**6

問45. ①骨董市 ②軒先ジャック **③**やきもの市 ④白樺祭

次の文章の（ ）に入る解答を下記の間 46～間 50 の選択肢からそれぞれ選んで下さい

江別駅から徒歩 5 分。高台にある江別小学校は、レンガ造りのまさに「江別らしい」学校の 1 つといえます。校舎の中央にはシンボルの（問 46）があります。（問 46）は、建設当時画期的で、「レンガのまち江別」を外に向けて象徴するものだといわれました。（問 46）と体育館は、レンガの（問 47）一枚半積みです。学校の裏手には、屯田兵が使用していたもので、2 度の移設を経た（問 48）の姿が見られます。使用されたレンガの S の刻印から（問 49）の鈴木煉瓦が使われていると言われています。明治 39 年、屯田兵制度が廃止された後の（問 48）は、江別尋常高等小学校の（問 50）として、利用されました。

- 問 46. ①国旗 ②時計塔 ③ドーム ④窯
- 問 47. ①小口 ②長手 ③平 ④空洞
- 問 48. ①駐屯所 ②中隊本部 ③火薬庫 ④宿直室
- 問 49. ①白石 ②厚別 ③桑園 ④岩見沢
- 問 50. ①五箇条の御誓文安置 ②紙垂製作所
 ③御大典所 ④御真影奉置所